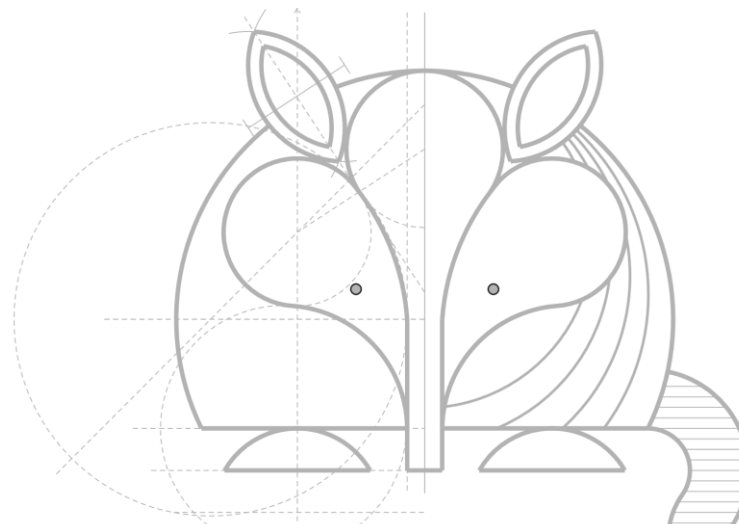




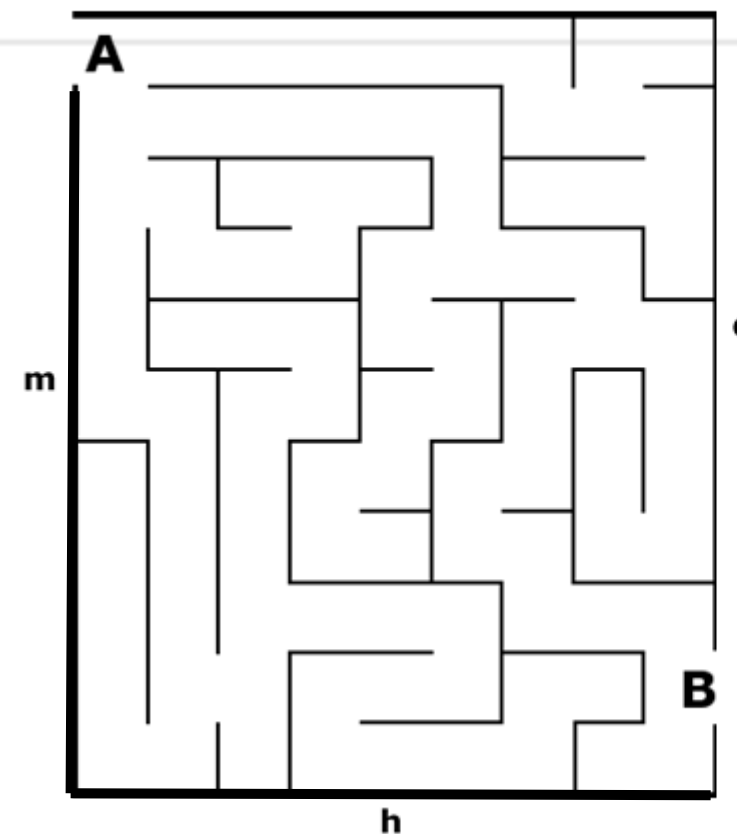
Retire o clipe para ver a
questão



Carta-questão



Larissa e Felipe decidiram passar o Dia dos Namorados num jardim em forma de labirinto. No entanto, como um entrou pela entrada A e outro pela passagem B, o casal acabou se perdendo. Ajude Larissa a encontrar a localização de Felipe (ponto F), sabendo que ele está, no desenho abaixo, a 52 mm da reta d (margem direita) e equidistante às retas h e m (margens inferior e esquerda respectivamente):



Retire o clipe para ver o
gabarito

Larissa e Felipe decidiram passar o Dia dos Namorados num jardim em forma de labirinto. No entanto, como um entrou pela entrada A e outro pela passagem B, o casal acabou se perdendo. Ajude Larissa a encontrar a localização de Felipe (ponto F), sabendo que ele está, no desenho abaixo, a 52 mm da reta d (margem direita) e equidistante às retas h e m (margens inferior e esquerda respectivamente):

